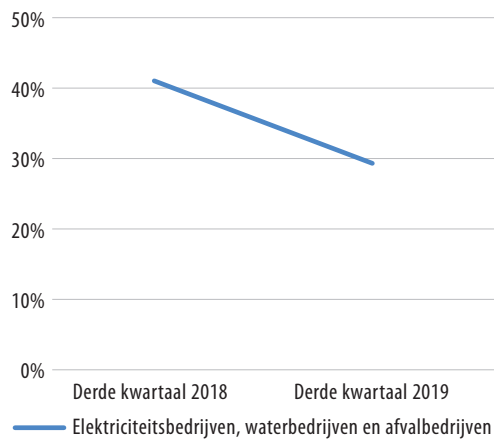


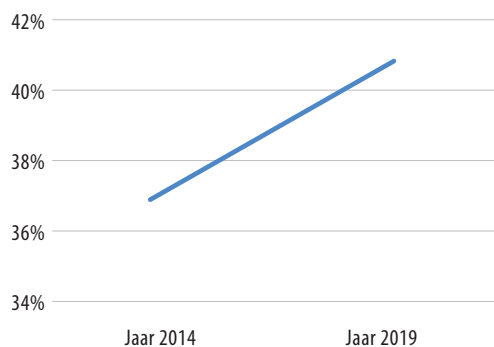
5 Speciale vaardigheid – Hoe beschrijf je een grafiek?

b)

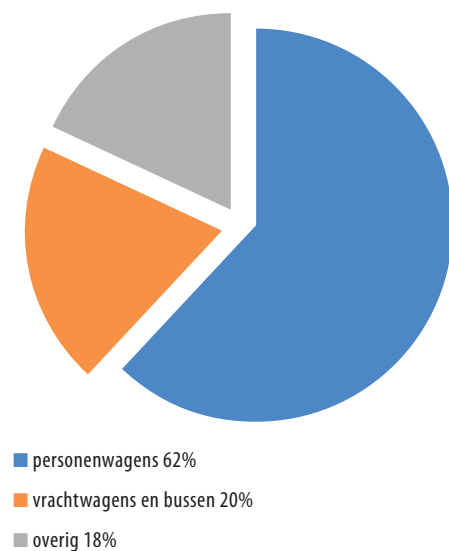
grafiek b Aandeel energiebedrijven in CO₂-uitstoot neemt af



grafiek c Matig alcoholgebruik Nederlanders in 2014 en 2019



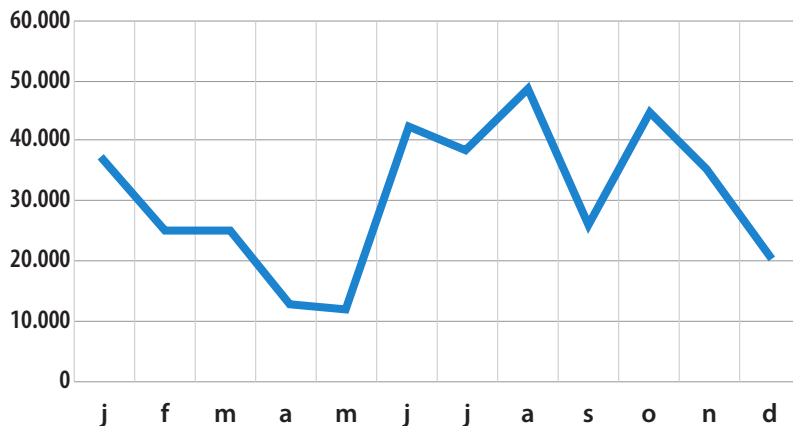
grafiek d CO₂-uitstoot wegverkeer in 2018



9 Schrijven en spreken – Wat staat er in de grafieken?

b) CURSIST A

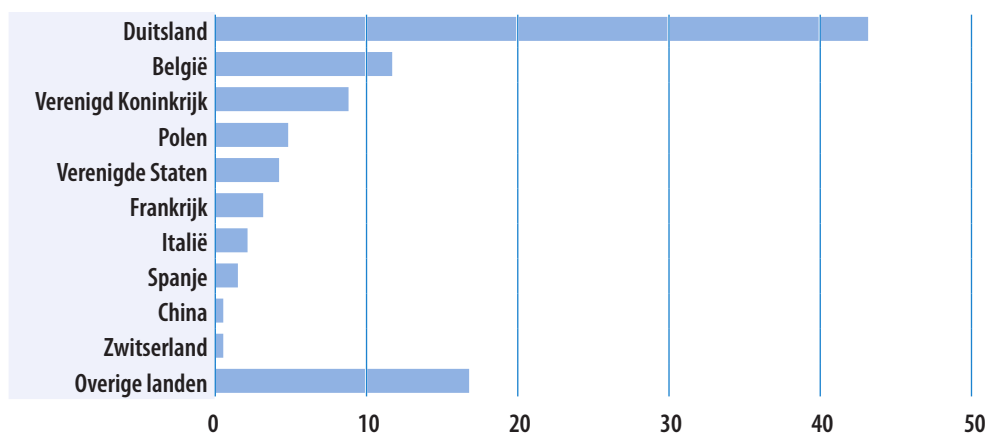
Aantal toeristen in Arnhem, 2015



9 Schrijven en spreken – Wat staat er in de grafieken?

b) CURSIST B

Bestedingen van buitenlandse reizigers naar herkomst, 2019



9 Schrijven en spreken – Wat staat er in de grafieken?

b) CURSIST C

Verkoop van boeken in Nederland, 2019

Verkoop van boeken in percentages van totale omzet

